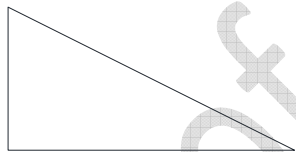
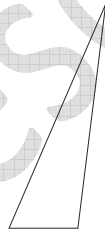


EJERCICIOS DE LA CLASIFICACIÓN DE LOS TRIÁNGULOS SEGÚN SUS ÁNGULOS

1. Que características y propiedades tienen los diferentes tipos de triángulos de la siguiente clasificación: Que es lo que tienen en común todos ellos?
 - Triángulo oblicuángulo:
 - Triángulo acutángulo:
 - Triángulo rectángulo:
 - Triángulo obtusángulo:
2. Identifica los siguientes triángulos según la clasificación por sus ángulos:



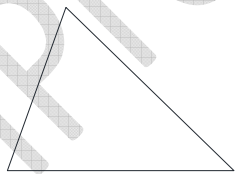
A



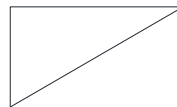
B



C



D



E



F