





**EJERCICIOS DE DEFINICIÓN DE INTERVALOS DE NÚMEROS REALES**

1. Interpreta los siguientes intervalos y completa la tabla: tendrás que añadir, paréntesis, claudators, dibujar rectas...

| Intervalo      | Representación  | Intervalo          |
|----------------|---|--------------------|
| $(-3,4]$       |   |                    |
| $[2,8]$        |   |                    |
| $(-\infty,12]$ |   |                    |
| $[15,29)$      |   |                    |
| $(14,+\infty)$ |   |                    |
| 3,8            |  |                    |
| 9,17           |  |                    |
| 21,40          |  |                    |
| ,3             |  |                    |
|                |   | $8 \leq x \leq 15$ |
|                |   | $-4 < x \leq 65$   |
|                |   | $-36 \leq x < 18$  |
|                |   | $x \geq 150$       |
|                |   | $x < 98$           |